



Concours Départemental d'Éducation Routière 2024 à Nangis

Quizz

N° Plaque

Nom

Prénom

1 - En roulant en groupe sur une route droite et large

- A – Nous ne pouvons rouler à 3 de front seulement sur ce type de route
- B – Nous pouvons toujours être à 3 de front sur toutes les routes
- C – Nous ne pouvons jamais rouler à trois de front quel que soit la route
- D – Nous pouvons rouler à 4 de front dans certains cas

2 - Le gilet de haute visibilité souvent jaune ou orange doit se porter

(Laquelle de ces 4 propositions est fausse ?)

- A – Quand la luminosité ambiante est faible
- B – Quand il pleut
- C – Quand il y a du brouillard
- D – Uniquement en ville


3 – Dans un rond-point

(Laquelle de ces 4 propositions est fausse ?)

- A – Un de mes deux bras doit toujours être lever
- B – Je ne mets que mon bras droit pour sortir
- C – Je reste toujours au bord extérieur du rond-point
- D – Je reste vigilant pour y rentrer comme pour en sortir

4 – Un panneau rond peu indiquer

- A – Une obligation
- B – Une interdiction
- C – Les deux
- D – Aucun des deux



N° PLAQUE Nom Prénom


5 – Sur un vélo quel équipement de sécurité n'est pas obligatoire ?

- A – Catadioptres avant, arrière, latéraux sur les roues et sur les pédales
- B – Avertisseur sonore (sonnette)
- C – Éclairage avant et arrière (quand la visibilité est faible)
- D – Gardes boues (quand il pleut)

6 – Quelle est la seule forme de panneaux utilisée pour plus de 2 panneaux ?




7 - Ce panneau signifie que :



- A – Je n'ai pas le droit d'aller tout droit
- B – j'ai le droit de passer en laissant la priorité aux véhicules venant d'en face
- C – j'ai le droit de passer en ayant la priorité sur les véhicules venant d'en face
- D – seuls les vélos ont le droit de continuer sur la route

8 – Ce panneau signifie que



- A – Je n'ai pas le droit de m'arrêter sur cette route
- B – J'ai la priorité sur cette route
- C – Je n'ai pas la priorité sur cette route
- D – J'arrive sur un carrefour

9 - Ce panneau



- A – Indique l'interdiction de circuler
- B – N'existe pas encore
- C – Ne concerne que les voitures
- D – Ne se trouve que sur les autoroutes

10 - Quel panneau n'indique pas une priorité ?

