

Concours Départemental Éducation Routière

Mise en situation

Le cycliste va tourner sur la route à gauche.

1

Dans cette situation, quel est le danger pour le cycliste ?

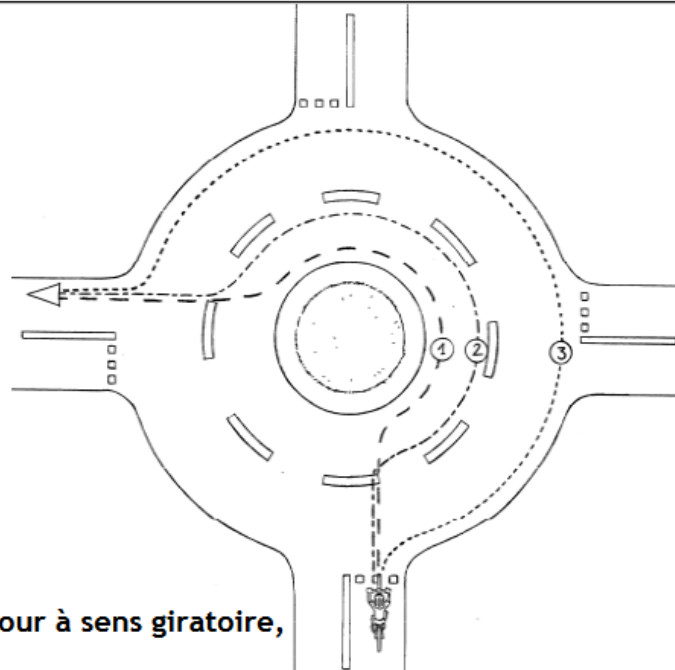
- Aucun car la rue est large.
- Aucun car il est à sa place.
- Se faire heurter par une voiture qui arrive de derrière.



2

Que devrait faire le cycliste ?

- Serrer plus à gauche.
- Rester à sa place.
- Serrer plus à droite.



3

Dans ce carrefour à sens giratoire, le cycliste :

- Doit suivre la trajectoire n° 1, parce qu'il va à gauche.
- Peut suivre la trajectoire n° 2 ou n° 3.
- Est plus en sécurité en suivant la trajectoire n° 3.
- Doit tendre le bras droit avant de sortir.

Cocher la seule mauvaise réponse

Vrai Faux


- | | |
|--------------------------|-------------------------------------|
| <input type="checkbox"/> | <input checked="" type="checkbox"/> |
| <input type="checkbox"/> | <input type="checkbox"/> |
| <input type="checkbox"/> | <input type="checkbox"/> |
| <input type="checkbox"/> | <input type="checkbox"/> |

Concours Départemental Éducation Routière

Mise en situation

Le cycliste passe sur la droite du camion

4



Dans cette situation, la cycliste :


- ♦ Peut passer rapidement car il n'y a pas de danger.
- ♦ N'a pas besoin de ralentir puisqu'elle est prioritaire.
- ♦ Doit s'arrêter car la voiture est prioritaire.
- ♦ Doit ralentir et se tenir prêt à s'arrêter.

Vrai Faux

<input type="checkbox"/>	<input type="checkbox"/>
<input type="checkbox"/>	<input type="checkbox"/>
<input type="checkbox"/>	<input type="checkbox"/>
<input checked="" type="checkbox"/>	<input type="checkbox"/>

- Aucun car il roule bien à droite.
- Recevoir sur la tête des pierres qui pourraient tomber du camion.
- Ne pas être vu par le conducteur du camion.

5



Que devrait-il faire ?

- Rester à droite derrière le camion.
- Se dépêcher de dépasser par la droite.
- Dépasser le camion par la gauche et passer devant.

6